

IMIĘ I NAZWISKO UCZESTNIKA

FILOMINO

4	5	4	4	4	4	8	7
4	5	5	5	8	8	8	7
4	4	5	B	8	8	7	7
9	9	9	8	C4	2	7	7
4	4	9	9	4	2	7	A6
4	4	9	9	4	4	6	6
3	5	5	B	9	3	3	6
3	3	5	5	5	3	6	6

9	9	9	6	6	3	3	3
9	9	5	5	6	6	4	4
9	9	3	D	6	4	4	5
9	9	3	5	C6	5	5	5
7	7	3	5	3	4	4	A5
4	7	7	7	3	3	4	4
4	4	4	7	B7	8	2	2
8	8	8	8	8	8	8	1

Podaj cyfry umieszczone w oznaczonych polach.

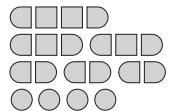
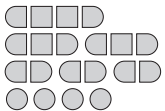
A	B	C	D
6	9	4	8

A	B	C	D
5	7	6	5

SAPER NA MORZU

	0			3										0
									0					
			3	5		4							2	0
	1						1	0	1	1				
0	1	2		3		3	2		1	1	0			
1		2		0										
			1			2	2		1		0			
	2		1											0
0				1		1	B	1		1				
		0	1			2		2	0	1				
C	1	1			1	2			0					
1						1		1		0				

0			0					2						0
			1						3		2			1
0	2				0	2					3			2
								2			4			
	2			3	3	2		D	3	4				2
			1								2			1
1				A	4						1	0		
	0	1				0				0				0
						0			0	0				0
0			0					2		3				1
		0				0								1
0								1	2	3	3			1



Jeśli na oznaczonym polu jest statek, wpisz "1". W przeciwnym przypadku postaw "0".

A	B	C	D
1	0	0	1

A	B	C	D
0	1	1	0

UKOŚNE DZIAŁANIA

5	2	1	3	4	6
6	5	2	1	3	^C 4
2	^A 4	5	4-	6	1
1	6	1-	9+	4	2
3	1	2-	8+	5	^B 6
4	3	6	2	^D 5	1

2	4	6	5	1	3
^P				^C	6+
^A 6	2	1	4	3	5
4	3	2	6	9+	^N
5	6	3	2÷	4-	1-
^B 1	5	4	3	6	2
^N		2-	12×	^P	
3	1	5	2	4	^D 6

Wpisz liczbę z oznaczonego pola.

A	B	C	D
4	2	4	5

A	B	C	D
6	1	1	6

KRZYŻÓWKI LICZBOWE

4	1			7	5	
9	4		5	3	8	1
	^B 7	3	9		9	7
9	6	1	^C 7	4		
7	2		3	2	1	5
	5	^D 2	6		2	9
	9	6		5	3	
7	3	1		7	^A 5	1
9	8			9	8	2

7	1			5	7	
9	4		3	9	1	7
	2	4	^C 1		5	9
5	^D 6	9	2	8		
1	3		6	9	8	3
	5	1	7		7	1
	9	3		7	5	
1	^B 7	2		5	^A 6	9
3	8			1	3	7

Podaj cyfry umieszczone w oznaczonych polach.

A	B	C	D
5	7	7	2

A	B	C	D
6	7	1	6

IMIĘ I NAZWISKO UCZESTNIKA

FILOMINO

6	6	6	4	4	6	8	8
6	6	2	Q	4	6	8	B8
1	6	3	7	4	6	6	8
7	9	3	7	6	6	8	8
7	9	3	7	7	7	8	7
7	9	9	9	7	3	7	7
7	7	9	A	D	3	7	7
7	7	9	9	1	3	7	7

6	8	8	8	8	3	A ³	3
6	6	6	8	8	6	6	6
6	4	4	4	8	2	6	6
6	3	4	5	8	2	3	6
3	3	1	5	5	5	3	3
9	9	9	9	9	D	4	4
9	3	8	9	6	6	4	4
9	1	3	9	6	6	6	6

Podaj cyfry umieszczone w oznaczonych polach.

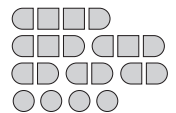
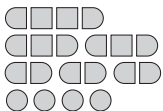
A	B	C	D
9	8	2	7

A	B	C	D
3	3	8	5

SAPER NA MORZU

	0		0	1		1		0	
1		0		0		2			0
●		0			3	3		0	
1		0		2		2		2	
		2		2			1	2	
1	●	●	●		2				3
		3			4	1	C	2	1
	0		1			●	2		
			●		3		1	0	0
0		1		1	0	0	0	0	
		0	0	1	A	1			0
●	1				2	1	0	0	

			0		●	D			0	0
1	1	0		2		2				
●			1		●			2	2	0
●		●	2	2	●	2		2	1	0
●	6	●	3			1	1	2		1
●	4	●				0		1		1
		2	2		0		1	●		●
	1	●	1			0	1	1	1	●
	1	1	1	0		0				1
	0				0		1	0		
	0	1		3			●			0
		1	●	●	2			1	0	0



Jeśli na oznaczonym polu jest statek, wpisz "1". W przeciwnym przypadku postaw "0".

A	B	C	D
0	1	0	1

A	B	C	D
1	1	1	0

UKOŚNE DZIAŁANIA

1	2	7	6	3	4	5
2	5	A 1	3	0-	10+	7
3	1	6	3-	2-	5	2
7	3	5	B 1	4	6	2
6	7	4	3-	2	1	5
4	6	2	5	7	3	1
5	4	2÷	3	7	2	1

1	3	4	6	5	2	7
4	1	5+	12×	3	6	7
3	7	1	2-	4	2	5
6	1-	4	7	3-	1	3
5	6	1-	3	2	7	4
2	5	6	7	4	8+	1
7	2	5	1	3	2-	3

Wpisz liczbę z oznaczonego pola.

A	B	C	D
1	1	4	5

A	B	C	D
2	5	4	4

KRZYŻÓWKI LICZBOWE

6	8	9	1	3	8
2	1	4	3	B 7	9
9	7			1	2
	6	8		2	4
		6	2	1	
		9	7	C 8	
		7	1	9	
	1	5		4	3
7	4			9	2
9	D 6	8		9	A 8
1	2	4		3	2

	8	1	2			
	9	5	8	2		
			C 9	3	8	
9	D 5			1	4	3
7	8	1	4		2	1
		6	2	A 8	1	3
3	1			9	2	7
8	B 7	2				9
	9	7	8			
			1	2	5	7
				6	8	9

Podaj cyfry umieszczone w oznaczonych polach.

A	B	C	D
8	7	8	6

A	B	C	D
8	7	9	5

IMIĘ I NAZWISKO UCZESTNIKA

FILOMINO

7	4	4	6	3	3	9	9
7	A	6	6	6	3	9	9
7	4	6	6	9	9	9	9
7	7	1	8	8	5	5	B
7	4	4	8	5	5	5	6
7	4	4	8	D	8	6	6
4	2	2	8	8	5	5	6
4	4	4	C	5	5	6	6

9	9	7	7	7	B	7	8
9	9	9	A	1	7	8	8
6	9	4	9	6	7	8	8
6	9	4	6	6	D	3	8
6	2	4	6	6	3	3	8
6	2	4	6	7	7	7	8
6	4	7	7	7	6	6	6
6	4	4	C	7	6	6	6

Podaj cyfry umieszczone w oznaczonych polach.

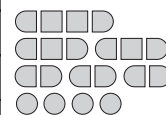
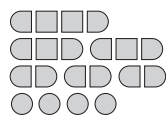
A	B	C	D
4	9	5	8

A	B	C	D
9	7	4	1

SAPER NA MORZU

0		0		0		1		2		1	
1				2	1	1	●	2	●	1	0
	●	●	●	●			1		1		
D	2	3	3		1	0		0		0	
			0	0					1	0	
			0	0		●	●			2	
	0					3	C		●	●	
	0				2	●	2				2
1		3	2			●	3		0		
	●	●	●		2	●				1	
1		A	4			1		2	●	2	
	1	●	2	●	1		0		●	2	

		2		3	2					0	
2	●	B	●	●	●			1	C		0
	●	4	3					1	●		0
1		2	●	1	0	1				1	0
		1		1				●	●	●	1
			0	0				3	2		
1	1				1						
1	●					●	3			3	2
1		1	0		2	●	A	●	●	●	●
0			2					2	3		2
			●	●	1		1		0		
	0	1	2		1	1	●				0



Jeśli na oznaczonym polu jest statek, wpisz "1". W przeciwnym przypadku postaw "0".

A	B	C	D
0	1	0	0

A	B	C	D
0	0	0	1

UKOŚNE DZIAŁANIA

5	7	6	1	3	4	2
1-		1-	N		7+	
6	4	A 2	7	1	5	C 3
1	5	3	4-		1-	
2	1	4	B 3	7	6	5
4+	6+	8+	3-			
3	2	5	4	6	7	1
6+				5-		
4	3	7	5	2	1	6
10+			1-		3-	
7	6	1	2	5	3	D 4

1	3	6	4	5	2	7
	7+	P	3-			
6	1	A 4	2	7	3	5
4	6	7	9+			6+
5	4	3-	N		5-	
2	5	1	N			
7	2	5	2-		7+	0-
3	7	2	1-	7+		

Wpisz liczbę z oznaczonego pola.

A	B	C	D
2	3	3	4

A	B	C	D
4	3	3	1

KRZYŻÓWKI LICZBOWE

7	D 5	3	4	1	2	6
9	8	6	3	5	B 4	7
3	1				1	2
				1	3	8
		2	3	9		
	9	4	7			
	6	4	1			
6	C 9	8				
3	1			1	5	
8	4	2	1	6	A 7	9
4	5	1	6	7	9	8

		1	7	3		
	6	5	C 9	1	2	
9	2				4	1
3	1				7	8
	5	4	8	1	3	
		1	3	2		
	7	6	A 9	3	4	
2	B 4				2	1
3	9				9	6
1	8	9	6	7	D 3	2
	6	8	4	9	7	

Podaj cyfry umieszczone w oznaczonych polach.

A	B	C	D
7	4	9	5

A	B	C	D
9	4	9	3

IMIĘ I NAZWISKO UCZESTNIKA

FILOMINO

3	3	3	5	5	5	5	7
6	6	6	6	5	7	7	7
6	6	9	5	2	2	7	3
9	9	9	5	5	5	7	3
9	9	9	5	8	8	7	3
9	9	8	8	8	8	8	8
5	5	5	5	7	7	7	4
5	7	7	7	4	4	4	4

6	6	4	4	6	6	6	6
6	6	7	4	8	8	8	6
6	6	7	1	8	8	8	6
7	7	7	8	8	7	7	7
3	3	3	7	8	2	2	7
9	9	9	9	8	6	6	7
9	9	5	9	5	6	6	7
9	9	5	5	5	6	7	7

Podaj cyfry umieszczone w oznaczonych polach.

A	B	C	D
8	7	2	6

A	B	C	D
7	4	6	6

SAPER NA MORZU

0		0		2	●	2		1	2	2	
	1			2	●	2		1	●	●	1
		●	2				1		5		3
	2	●		0		1		●	●	●	●
1	2		1			●		2		3	
●	1		0		●	3				0	
	1			2	●					1	
		1		1				0			●
	0		●		1		0		0		
	0	3	●	4	●					0	
		2	●		1	1	0			1	0
	0		1	1		0		1	●	1	

0			0				2	●		0	
	B	1				●	3		2		1
0	2	●		0	2	●			3	●	2
		●					2	●	4	●	
	2		3	3	2			3	4	●	2
●	1		●	●	●		●	●	2		1
1				4					1	0	
	0	1	●		0			0			0
					0		0	0			0
0			0				2		3		1
		0			0		●	●	●	●	1
0							1	2	3	3	1

Jeśli na oznaczonym polu jest statek, wpisz "1". W przeciwnym przypadku postaw "0".

A	B	C	D
1	1	1	1

A	B	C	D
1	0	1	1

UKOŚNE DZIAŁANIA

1	5	6	2	3	4	7
7+	12+	9+			8+	
2	6	A 7	3	5	1	C 4
		8+				
3	2	5	1	4	7	6
6+		N		1-		
4	3	1	7	6	B 5	2
		4-				
7	4	3	5	2	6	1
		9+	4-		2÷	
5	7	4	6	D 1	2	3
		8+				
6	1	2	4	7	3	5

1	2	5	4	7	3	6	
			2-		1-		
6	1	3	5	2	7	C 4	
		2÷					
4	A 6	2	7	3	1	5	
		5-	8+	3-		N	
2	7	1	B 6	4	5	3	
				7+	6+		
5	4	6	3	1	2	7	
					7+		
7	3	4	1	5	D 6	2	
				7+			
3	N	5	7	2	6	4	1

Wpisz liczbę z oznaczonego pola.

A	B	C	D
7	5	4	1

A	B	C	D
6	6	4	6

KRZYŻÓWKI LICZBOWE

		5	2	8		
	9	3	4	7	5	
3	B 6	2		6	C 2	9
5	8				1	3
1	5				7	8
2	3	D 9		2	3	7
	7	8	9	6	4	
			3	1		
		3	2			
	3	2	A 6	1	4	
	9	7	8	2	6	

	9	6	8				
	7	2	1	5	3		
			5	9	B 8	1	2
	7	5			9	8	3
	8	C 7	2	1		3	1
		8	6	5	7	D 9	
	8	9		2	6	5	1
	3	2	1			7	2
	9	4	A 5	7	8		
			6	8	1	2	3
					9	6	8

Podaj cyfry umieszczone w oznaczonych polach.

A	B	C	D
6	6	2	9

A	B	C	D
5	8	7	9