

IMIĘ I NAZWISKO UCZESTNIKA


**WĄŻ SAPERA**

3			3					3	1	0
						7				
4		A	<sup>3</sup> <sub>3</sub>			<sup>2</sup> <sub>4</sub>		<sup>1</sup> <sub>3</sub>	<sup>1</sup> <sub>1</sub>	
4								B		2
		7			7	<sup>2</sup> <sub>4</sub>			<sup>1</sup> <sub>2</sub>	
								4	<sup>1</sup> <sub>2</sub>	
					<sup>1</sup> <sub>3</sub>	5				
	1	<sup>1</sup> <sub>2</sub>								
1	<sup>1</sup> <sub>1</sub>	<sup>1</sup> <sub>1</sub>	<sup>1</sup> <sub>1</sub>	C				8		5
	5			6		6				
						<sup>1</sup> <sub>2</sub>			4	2

Jeśli pole jest zamalowane, postaw "W".  
W przeciwnym przypadku postaw "X".

A	B	C
X	X	X

**SUDOKU ŁAŃCUCH**



3	7	6	8	1	9	4	5	2
1	5	9	4	2	8	7	3	6
6	4	3	2	7	5	1	8	9
8	1	5	7	9	2	6	4	3
2	3	4	9	6	1	5	7	8
4	9	7	5	8	6	3	2	1
7	6	8	1	5	3	2	9	4
9	2	1	3	4	7	8	6	5
5	8	2	6	3	4	9	1	7

Podaj cyfry umieszczone w oznaczonych polach.

A	B	C
8	2	2

## UKOŚNE DZIAŁANIA

4	1	3	2
1-	N	1-	
2	3	1	4
6+	5+		
3	4	2	1
5+		5+	
1	2	4	3

4	2	5	6	1	3
		9+			
6	5	3	4	2	1
	3-	6+		6+	
1	6	2	3	5	4
			3-	10+	
3	1	4	2	6	5
		1-			
2	3	1	5	4	6
	2-			2÷	
5	4	6	1	3	2

Podaj cyfry umieszczone w oznaczonych polach.

A	B	C
3	4	5

Przykład:

1		●	2	●
●	4	3	5	
●		●	●	●
3	4	3	4	3
●	●			●

1	5	4	2	6	3
		1-		12×	
6	1	3	5	4	2
			8+	5+	
2	6	5	4	3	1
	1-		2÷	1-	
5	3	1	6	2	4
	7+	2÷			3-
4	2	6	3	1	5
		6×	N		
3	4	2	1	5	6

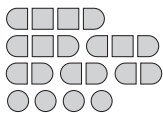
Podaj cyfry umieszczone w oznaczonych polach.

A	B	C
3	3	5



## SAPER NA MORZU

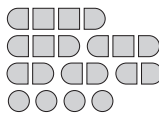
	0	●	2	2		1	0		0
		2	●	●					
0	●			2		1	2		2
	1	1	1	0	A		●	●	●
	0								
	0		0						0
	2	3		1		●	B		
1	●	●	●	C		1		1	0
	1		4		2		3		1
	1	●			●	●	●	●	1
●		●			3			1	1
	1	1		0	0	0			0



Jeśli na oznaczonym polu jest statek, wpisz "Z".  
W przeciwnym przypadku postaw "X".

A	B	C
X	Z	X

			1	1		0		1		1
0		0	1	●	2	1		2	●	2
	0	0			●	2	0	2	●	
				0	A					1
●	●	●	1		●	3		0		
3	4		0		●	2	0	0		0
●				1		1				1
		1	1		1		0		●	B
		2	●	●	C			3	●	3
2		3	●	3		1		0	●	2
●	●			1	1		1			1
2	2		0	1	●	1	0	0		



Jeśli na oznaczonym polu jest statek, wpisz "Z".  
W przeciwnym przypadku postaw "X".

A	B	C
Z	Z	X