

II MEMORIAŁ URSZULI MARCINIAK

S2

IMIĘ I NAZWISKO UCZESTNIKA


WAŻ SAPERA

		3							
3				7			5	2	
		A							2
3	6			² ₃					2
					B			¹ ₃	
		6		7	7				
¹ ₂	¹ ₂	² ₂			¹ ₂			6	
			³ ₃	² ₄					
	8		C						4
		6		5					
4						4		2	

Jeśli pole jest zamalowane, postaw "W".
W przeciwnym przypadku postaw "X".

A	B	C

SUDOKU ŁAŃCUCH



6			3		1		9	
	4	9						
	9		5	8	B	1	3	
3	2	7	1	4	9			
	5	1		A		4		8
			7		5	8	2	
	1			3	7		6	4
	C	5	8	1	6			7
8			4		2		1	

Podaj cyfry umieszczone w oznaczonych polach.

A	B	C

UKOŚNE DZIAŁANIA

4	1	3	2
1-	N	1-	
2	3	1	4
6+	5+		
3	4	2	1
5+		5+	
1	2	4	3

6+		A		8+	
			2÷	5+	
		B			
		2-	1-		
			C		
	1-		5+	4-	

Podaj cyfry umieszczone w oznaczonych polach.

A	B	C


		A			
		2-		4×	
	12×			1-	
	B				
	4×	12×			
		4+	8+	9+	8+
				C	

Podaj cyfry umieszczone w oznaczonych polach.

A	B	C

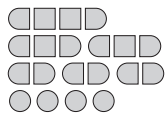
Przykład:

1		●	2	●
●	4	3	5	
●		●	●	●
3	4	3	4	3
●	●			●



SAPER NA MORZU

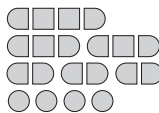
	0		3		1			2
				3		1		
	1		3	3		1		3
1			A					
	0		0	0				1
0			1					0
					B			
0		0	1	3	2			0
		1						
1								2
1	1	1	1		1	1		
				0		0	0	



Jeśli na oznaczonym polu jest statek, wpisz "Z".
W przeciwnym przypadku postaw "X".

A	B	C

			0	0				2
	0		3			0		
				1	1			1
0			3	A			1	
	2		0					
1					4		2	
	2	1	0				B	
					C	4		1
	0			2			1	
		1	1					0
	0			0	1			0
	0	1						



Jeśli na oznaczonym polu jest statek, wpisz "Z".
W przeciwnym przypadku postaw "X".

A	B	C